

# حساب التكامل

111 رياض

الأسبوع الحادي عشر

**الأهداف:**

- حساب حجوم الأجسام الدورانية باستعمال طريقة الشرائح الاسطوانية

- نتناول في هذا البند حساب طول القوس

- نتناول في هذا البند حساب مساحة سطح الدوران

## 2.7 حجوم أجسام الدوران

✓ أولاً - الأقراص الأسطوانية :

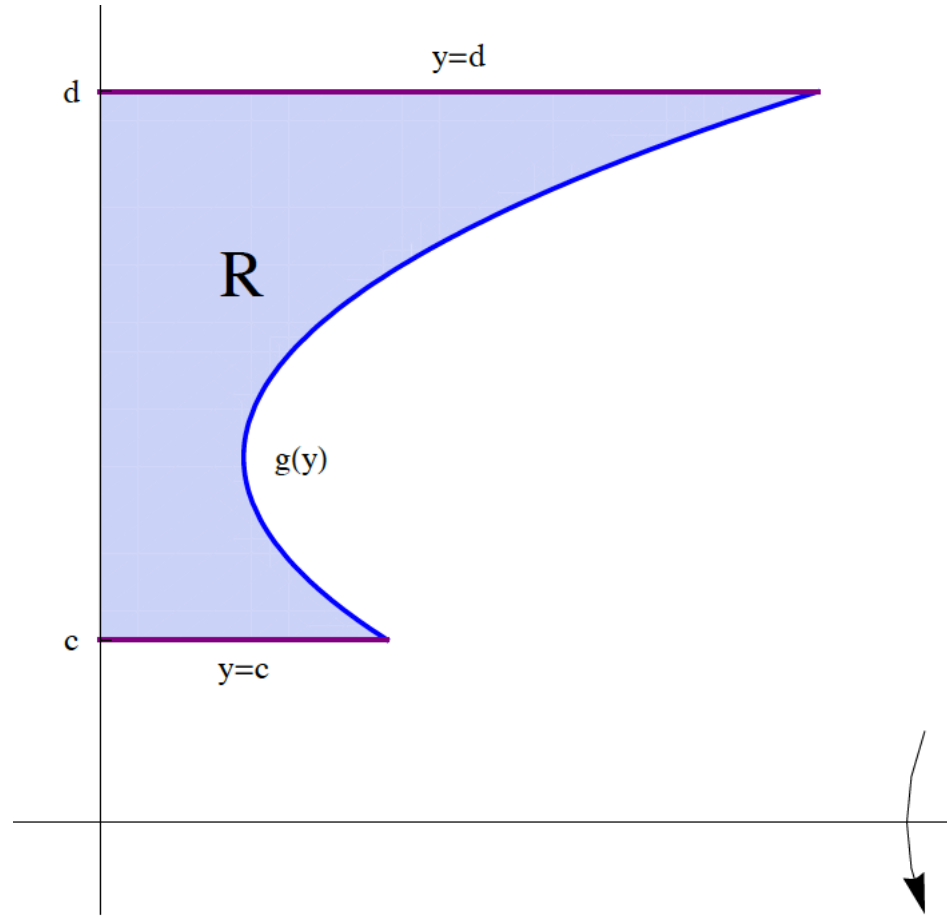
✓ ثانياً - طريقة الوردات

ثالثاً - طريقة الشرائح الأسطوانية :

ثالثاً - طريقة الشرائح الأسطوانية :

إذا كانت الدالة  $g(y)$  دالة موجبة وملتصقة على الفترة  $[c, d]$  و كانت  $R$  هي المنطقة المحدودة بالمنحنيات  $g(y)$  و  $y = c$  و

$y = d$  و محور  $y$  ، فإن حجم الجسم الناشئ من دوران المنطقة  $R$  حول محور  $x$  تساوي  $V = 2\pi \int_c^d y g(y) dy$



مثال :

أوجد حجم الجسم الناشئ من دوران المنطقة المحدودة بالمنحنيات  $y = x^2$  و  $y = -x + 2$  و  $y = 0$  ، حول محور  $x$ .

الحل :

المنحنى  $y = x^2$  يمثل قطع مكافئ رأسه  $(0, 0)$  وفتحته للأعلى .

المنحنى  $y = -x + 2$  يمثل خط مستقيم ميله  $-1$  ويبر بالنقطة  $(0, 2)$  .

المنحنى  $y = 0$  يمثل محور  $x$  .

نقاط تقاطع المنحنى  $y = x^2$  مع  $y = -x + 2$  :

$$x^2 = -x + 2 \implies x^2 + x - 2 = 0 \implies (x + 2)(x - 1) = 0$$

$$\implies x = -2, x = 1 \implies y = 4, y = 1$$

باستخدام طريقة الشرائح الأسطوانية :

$$y = x^2 \implies x = \sqrt{y}$$

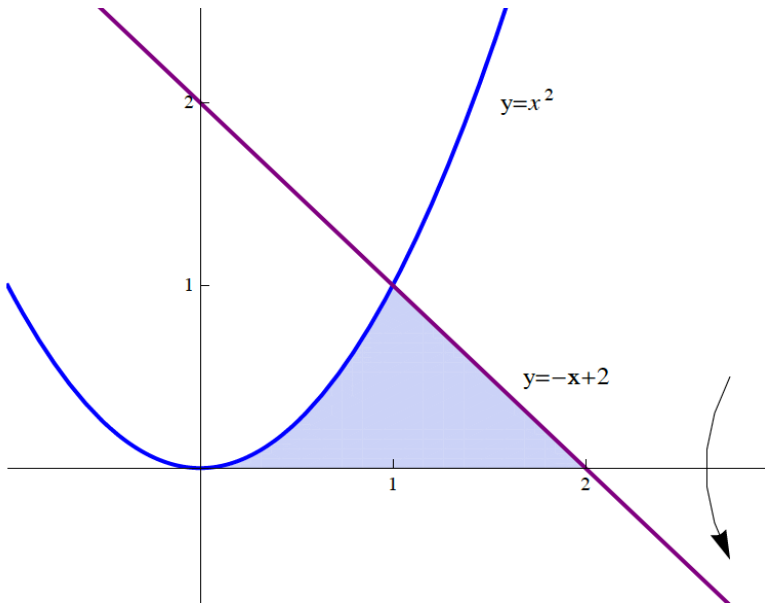
$$y = -x + 2 \implies x = -y + 2$$

$$V = 2\pi \int_0^1 y [(-y + 2) - \sqrt{y}] dy = 2\pi \int_0^1 y (-y - y^{\frac{1}{2}} + 2) dy$$

$$= 2\pi \int_0^1 (-y^2 - y^{\frac{3}{2}} + 2y) dy = 2\pi \left[ -\frac{y^3}{3} - \frac{2}{5}y^{\frac{5}{2}} + y^2 \right]_0^1$$

$$= 2\pi \left[ \left( -\frac{1}{3} - \frac{2}{5} + 1 \right) - (0 - 0 + 0) \right]$$

$$= 2\pi \left( \frac{-5 - 6 + 15}{15} \right) = 2\pi \left( \frac{4}{15} \right) = \frac{8\pi}{15}$$



مثال : أوجد حجم الجسم الناشئ من دوران المنطقة المحدودة بالمنحنيات  $y = \sqrt{x-1}$  و  $y = 2$  و  $y = 0$  و  $x = 0$  ، حول محور  $x$ .

الحل :

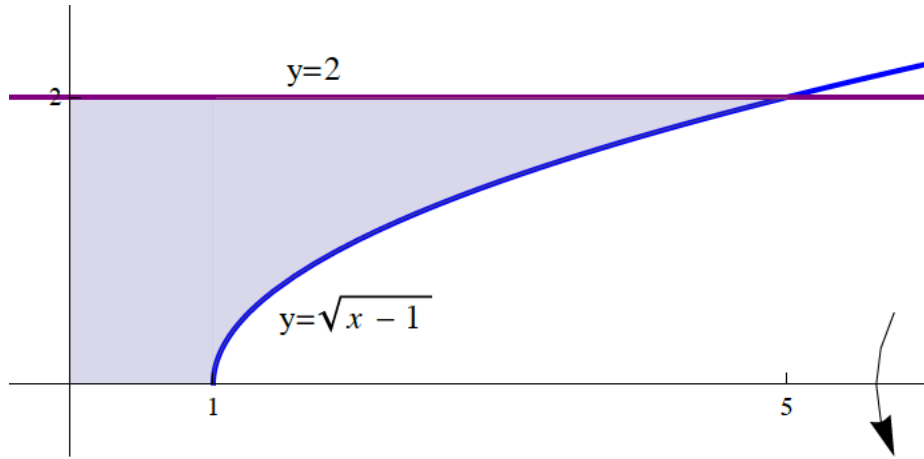
المنحنى  $y = \sqrt{x-1}$  يمثل النصف العلوي للقطع المكافئ  $x = y^2 + 1$  الذي رأسه  $(1, 0)$  وفتحته لليمين .

المنحنى  $y = 2$  يمثل خط مستقيم يوازي محور  $x$  ويمر بالنقطة  $(0, 2)$  .

المنحنى  $y = 0$  يمثل محور  $x$  .

المنحنى  $x = 0$  يمثل محور  $y$  .

باستخدام طريقة الشرائح الأسطوانية :



$$y = \sqrt{x-1} \implies y^2 = x-1 \implies x = y^2 + 1$$

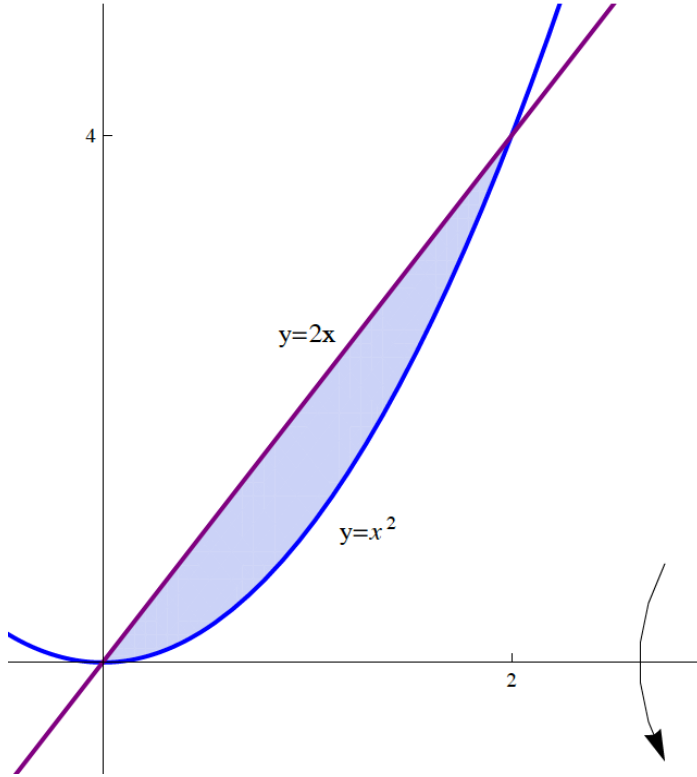
$$V = 2\pi \int_0^2 y (y^2 + 1) dy = 2\pi \int_0^2 (y^3 + y) dy = 2\pi \left[ \frac{y^4}{4} + \frac{y^2}{2} \right]_0^2$$

$$= 2\pi \left[ \left( \frac{16}{4} + \frac{4}{2} \right) - (0 + 0) \right] = 2\pi (4 + 2) = 12\pi$$

مثال : أحسب حجم الجسم الناشئ من دوران المنطقة المحدودة بالمنحنيين  $y = x^2$  و  $y = 2x$  حول محور  $x$ .  
الحل :

المنحنى  $y = x^2$  يمثل قطع مكافئ رأسه  $(0, 0)$  وفتحته للأعلى .

المنحنى  $y = 2x$  يمثل خط مستقيم ميله 2 ويمر بنقطة الأصل .



إيجاد نقاط تقاطع المنحنيين  $y = 2x$  و  $y = x^2$  :

$$x^2 = 2x \implies x^2 - 2x = 0 \implies x(x - 2) = 0$$

$$\implies x = 0, x = 2 \implies y = 0, y = 4$$

باستخدام طريقة الشرائح الأسطوانية :

$$y = x^2 \implies x = \sqrt{y}$$

$$y = 2x \implies x = \frac{1}{2}y$$

$$V = 2\pi \int_0^4 y \left( \sqrt{y} - \frac{1}{2}y \right) dy = 2\pi \int_0^4 \left( y^{\frac{3}{2}} - \frac{1}{2}y^2 \right) dy$$

$$= 2\pi \left[ \frac{2}{5}y^{\frac{5}{2}} - \frac{1}{2} \frac{y^3}{3} \right]_0^4 = 2\pi \left[ \left( \frac{2}{5}(4)^{\frac{5}{2}} - \frac{(4)^3}{6} \right) - (0 - 0) \right]$$

$$= 2\pi \left( \frac{64}{5} - \frac{64}{6} \right) = 128\pi \left( \frac{1}{5} - \frac{1}{6} \right) = \frac{128}{30}\pi = \frac{64}{15}\pi$$

## 3.7 طول القوس

إذا كانت الدالة  $f$  قابلة للاشتقاق على الفترة  $[a, b]$  فإن طول منحنى الدالة  $f$  من  $x = a$  إلى  $x = b$  يساوي  $L = \int_a^b \sqrt{1 + [f'(x)]^2} dx$

مثال : أحسب طول القوس للدالة  $y = 1 + \frac{2}{3}x^{\frac{3}{2}}$  من  $x = 0$  إلى  $x = 3$ .

الحل :

$$f(x) = 1 + \frac{2}{3}x^{\frac{3}{2}} \implies f'(x) = x^{\frac{1}{2}}$$

$$\begin{aligned} L &= \int_0^3 \sqrt{1 + \left(x^{\frac{1}{2}}\right)^2} dx = \int_0^3 \sqrt{1 + x} dx = \int_0^3 (1 + x)^{\frac{1}{2}} dx \\ &= \left[ \frac{2}{3}(1 + x)^{\frac{3}{2}} \right]_0^3 = \left[ \frac{2}{3}(1 + 3)^{\frac{3}{2}} - \frac{2}{3}(1 + 0)^{\frac{3}{2}} \right] \\ &= \frac{2}{3}(8) - \frac{2}{3}(1) = \frac{16 - 2}{3} = \frac{14}{3} \end{aligned}$$

مثال :

أحسب طول القوس للدالة  $y = \cosh x$  من  $x = 0$  إلى  $x = \ln 2$ .

الحل :

$$f(x) = \cosh x \implies f'(x) = \sinh x$$

$$L = \int_0^{\ln 2} \sqrt{1 + (\sinh x)^2} dx = \int_0^{\ln 2} \sqrt{1 + \sinh^2 x} dx$$

$$= \int_0^{\ln 2} \sqrt{\cosh^2 x} dx = \int_0^{\ln 2} \cosh x dx = [\sinh x]_0^{\ln 2}$$

$$= \sinh(\ln 2) - \sinh(0) = \sinh(\ln 2) = \frac{e^{\ln 2} - e^{-\ln 2}}{2} = \frac{2 - \frac{1}{2}}{2} = \frac{3}{4}$$

ملاحظة : تذكر أن

$$\cosh^2 x - \sinh^2 x = 1 \implies \cosh^2 x = 1 + \sinh^2 x$$



مثال :

أحسب طول القوس  $y = \frac{1}{4}x^2 - \frac{1}{2} \ln x$  من  $x = 1$  إلى  $x = 2$ .

الحل :

$$f(x) = \frac{1}{4}x^2 - \frac{1}{2} \ln x \implies f'(x) = \frac{1}{2}x - \frac{1}{2} \frac{1}{x} = \frac{x}{2} - \frac{1}{2x}$$

$$\begin{aligned} L &= \int_1^2 \sqrt{1 + \left(\frac{x}{2} - \frac{1}{2x}\right)^2} dx = \int_1^2 \sqrt{1 + \left(\frac{x^2}{4} - \frac{1}{2} + \frac{1}{4x^2}\right)} dx \\ &= \int_1^2 \sqrt{\frac{x^2}{4} + \frac{1}{2} + \frac{1}{4x^2}} dx = \int_1^2 \sqrt{\left(\frac{x}{2} + \frac{1}{2x}\right)^2} dx = \int_1^2 \left|\frac{x}{2} + \frac{1}{2x}\right| dx \\ &= \int_1^2 \left(\frac{x}{2} + \frac{1}{2x}\right) dx = \left[\frac{x^2}{4} + \frac{1}{2} \ln x\right]_1^2 = \left[\left(1 + \frac{1}{2} \ln 2\right) - \left(\frac{1}{4} + \frac{1}{2} \ln 1\right)\right] \\ &= 1 + \frac{1}{2} \ln 2 - \frac{1}{4} = \frac{3}{4} + \frac{\ln 2}{2} \end{aligned}$$

مثال : أحسب طول القوس للدالة  $y = \sqrt{4 - x^2}$  من  $x = -2$  إلى  $x = 2$ .

الحل :

$$f(x) = \sqrt{4 - x^2} \implies f'(x) = \frac{-2x}{2\sqrt{4 - x^2}} = \frac{-x}{\sqrt{4 - x^2}}$$

$$\begin{aligned} L &= \int_{-2}^2 \sqrt{1 + \left(\frac{-x}{\sqrt{4 - x^2}}\right)^2} dx = \int_{-2}^2 \sqrt{1 + \frac{x^2}{4 - x^2}} dx \\ &= \int_{-2}^2 \sqrt{\frac{(4 - x^2) + x^2}{4 - x^2}} dx = \int_{-2}^2 \sqrt{\frac{4}{4 - x^2}} dx = 2 \int_{-2}^2 \frac{1}{\sqrt{4 - x^2}} dx \\ &= 2 \left[ \sin^{-1} \left( \frac{x}{2} \right) \right]_{-2}^2 = 2 [\sin^{-1}(1) - \sin^{-1}(-1)] = 2 \left( \frac{\pi}{2} - \frac{-\pi}{2} \right) = 2\pi \end{aligned}$$

## 4.7 مساحة سطح الدوران

إذا كانت الدالة  $f$  موجبة وقابلة للاشتقاق على الفترة  $[a, b]$  فإن مساحة سطح الجسم الناشئ عن دوران الدالة  $f$  من  $x = a$  إلى  $x = b$  حول محور  $x$  تساوي

$$S = 2\pi \int_a^b f(x) \sqrt{1 + [f'(x)]^2} dx$$

مثال :

أحسب مساحة سطح الجسم الناشئ عن دوران المنحنى  $y = \frac{1}{3}x^3$  ،  $0 \leq x \leq 1$  حول محور  $x$ .

الحل :

$$f(x) = \frac{1}{3}x^3 \implies f'(x) = x^2$$

$$S = 2\pi \int_0^1 \frac{1}{3}x^3 \sqrt{1 + (x^2)^2} dx = \frac{2\pi}{3} \int_0^1 x^3 \sqrt{1 + x^4} dx$$

$$= \frac{2\pi}{3} \frac{1}{4} \int_0^1 (1 + x^4)^{\frac{1}{2}} (4x^3) dx = \frac{\pi}{6} \left[ \frac{2}{3} (1 + x^4)^{\frac{3}{2}} \right]_0^1$$

$$= \frac{\pi}{6} \left[ \frac{2}{3} (1 + 1)^{\frac{3}{2}} - \frac{2}{3} (1 + 0)^{\frac{3}{2}} \right] = \frac{\pi}{6} \left( \frac{2}{3} \sqrt{8} - \frac{2}{3} \right) = \frac{\pi}{9} (\sqrt{8} - 1)$$

مثال :

أحسب مساحة سطح الجسم الناشئ عن دوران المنحنى  $y = \sqrt{x}$  ،  $1 \leq x \leq 4$  حول محور  $x$ .

الحل :

$$f(x) = \sqrt{x} \implies f'(x) = \frac{1}{2\sqrt{x}}$$

$$\begin{aligned} S &= 2\pi \int_1^4 \sqrt{x} \sqrt{1 + \left(\frac{1}{2\sqrt{x}}\right)^2} dx = 2\pi \int_1^4 \sqrt{x} \sqrt{1 + \frac{1}{4x}} dx \\ &= 2\pi \int_1^4 \sqrt{x} \sqrt{\frac{4x+1}{4x}} dx = 2\pi \int_1^4 \sqrt{x} \frac{\sqrt{4x+1}}{2\sqrt{x}} dx \\ &= 2\pi \frac{1}{2} \int_1^4 \sqrt{4x+1} dx = \pi \int_1^4 (4x+1)^{\frac{1}{2}} dx = \pi \frac{1}{4} \int_1^4 (4x+1)^{\frac{1}{2}} (4) dx \\ &= \frac{\pi}{4} \left[ \frac{2}{3} (4x+1)^{\frac{3}{2}} \right]_1^4 = \frac{\pi}{4} \left[ \frac{2}{3} (17)^{\frac{3}{2}} - \frac{2}{3} (5)^{\frac{3}{2}} \right] = \frac{\pi}{6} \left[ (17)^{\frac{3}{2}} - (5)^{\frac{3}{2}} \right] \end{aligned}$$

مثال :

أحسب مساحة سطح الجسم الناشئ عن دوران المنحنى  $y = \sqrt{9 - x^2}$  ،  $-3 \leq x \leq 3$  حول محور  $x$ .

الحل :

$$f(x) = \sqrt{9 - x^2} \implies f'(x) = \frac{-2x}{2\sqrt{9 - x^2}} = \frac{-x}{\sqrt{9 - x^2}}$$

$$S = 2\pi \int_{-3}^3 \sqrt{9 - x^2} \sqrt{1 + \left(\frac{-x}{\sqrt{9 - x^2}}\right)^2} dx$$

$$= 2\pi \int_{-3}^3 \sqrt{9 - x^2} \sqrt{1 + \frac{x^2}{9 - x^2}} dx$$

$$= 2\pi \int_{-3}^3 \sqrt{9 - x^2} \sqrt{\frac{(9 - x^2) + x^2}{9 - x^2}} dx = 2\pi \int_{-3}^3 \sqrt{9 - x^2} \sqrt{\frac{9}{9 - x^2}} dx$$

$$= 2\pi \int_{-3}^3 \sqrt{9 - x^2} \frac{3}{\sqrt{9 - x^2}} dx = 6\pi \int_{-3}^3 1 dx$$

$$= 6\pi [x]_{-3}^3 = 6\pi [3 - (-3)] = 6\pi (6) = 36\pi$$