

اختبار قياس بعض

المهارات النمائية






رقمها:

الصف:

اسم الطالبة:


1_ اختبار معرفة الاتجاهات والأشكال

ضعي خطأً تحت الشكل الأيمن وخطان تحت الشكل الأيسر وثلاثة خطوط تحت الشكل الأوسط؟
وبعد ذلك يطلب من التلميذة تسمية كل شكل من الأشكال الهندسية التي أمامها



2- اختبار التعرف عن طريق اللمس:-

تقوم المعلمة بإعطاء التلميذة بعض الأدوات (قلم/ مسطرة / ورقة) ثم تطلب من التلميذة التعرف عليها عن طريق اللمس
وتسميتها و هي مغمضة العينين



3- اختبار التمييز البصري :-

تطلب المعلمة من التلميذة وضع دائرة على الفقرة المشابهة للتي بداخل المربع

ع ا ح ا ل ا و ا ج ا م ا خ ا

ج

س ا ض ا ط ا ك ا ن ا ش ا ص ا

ص

مات ماجد مال مازن ماء

مال

السيادة السيارة السعادة

السعادة

4- اختبار التمييز السمعي :-

تقوم المعلمة بقراءة حرف واحد أو كلمة واحدة من الحروف أو الكلمات في الجدول التالي

ثم يطلب من التلميذة وضع دائرة حول الحرف أو الكلمة التي تسمعها؟

ك	ت
ط	د
ش	س
زار	سار
عصير	عسير
عمل	أمل

5- اختبار الإدراك البصري:-

يتم عرض صور لأدوات مختلفة ثم يطلب من التلميذة تسميتها و ذكر أهميتها



6- اختبار الإدراك السمعي:-

يتم قراءة قطعة في حدود ثلاثة أسطر ثم تقوم المعلمة بسؤال التلميذة أسئلة مباشرة حول أحداث القصة

قصة الثعلب المكار والكتاكيت الثلاثة

كان هناك ثلاثة كتاكيت صغار يسكنون مع والدتهم وفي يوم من الأيام قالت الأم لأبنائها سأذهب للسوق ولكن في غيابي احذروا فتح الباب لأي غريب وخاصة الثعلب المكار وخرجت الأم وسمع طرق الباب فأجابوا الكتاكيت من على الباب فقال الثعلب أنا أمكم ففتحو الباب ففاجأهم الثعلب المكار بدخوله إلى البيت.

الأسئلة


1- كم عدد الكتاكيت الموجودة في المنزل؟

2- من طرق الباب؟

3- أين ذهبت الأم؟

7 اختبار الإغلاق البصري :-

تقوم المعلمة بعرض صور غير كاملة على التلميذة ثم تطلب منها تسميتها؟



8- اختبار الإغلاق السمعي:-

تقوم المعلمة بقراءة جمل تنقصها حروفًا أو كلمات ثم تطلب من التلميذة إكمالها




1- أتناول الحساء بالمد.....

2- أمشط شعري بال.....

3- أتوضأ وأذهب للصلاة في الم.....

9- اختبار الذاكرة البصرية

يتم عرض بعض الصور المختلفة ثم يطلب من التلميذة أن تذكر أسماء الصور المعروضة عليها



10- اختبار الذاكرة السمعية :-

تقوم المعلمة بذكر خمس كلمات تبدأ بحروف مختلفة ثم تقوم التلميذة بتذكرها كاملة.

مدرسة_ حديقة_ سلم_ جبل_ بيت

جمع و إعداد وتنسيق

المعلمة: ريم الشقراوية

استمارة تفريغ اختبار قياس بعض المهارات النمائية

اسم الاختبار	الدرجة الكلية	الدرجة التي حصلت عليها الطالبة
1--معرفة الاتجاهات والأشكال	$\frac{5}{6}$	$\frac{6}{6}$
2-التعرف عن طريق اللمس	$\frac{2}{3}$	$\frac{3}{3}$
3-التمييز البصري	$\frac{3}{4}$	$\frac{4}{4}$
4- التمييز السمعي	$\frac{5}{6}$	$\frac{6}{6}$
5-الإدراك البصري	$\frac{5}{6}$	$\frac{6}{6}$
6- الإدراك السمعي	$\frac{2}{3}$	$\frac{3}{3}$
7-الإغلاق البصري	$\frac{5}{6}$	$\frac{6}{6}$
8- الإغلاق السمعي	$\frac{2}{3}$	$\frac{3}{3}$
9-الذاكرة البصرية	$\frac{4}{5}$	$\frac{5}{5}$
10- الذاكرة السمعية	$\frac{4}{5}$	$\frac{5}{5}$
المجموع الكلي	$\frac{37}{47}$	$\frac{47}{47}$

اسم الطالبة: _____ الصف: _____

مطبقة الاختبار: _____



مكواة تستخدم لكي الملابس

ملاحظة تغلف هذه البطاقات حراريًا
وتحفظ في أكياس مغلقة أو علب صغيرة
لتحفظ من التلف
من الممكن تغيير الصور واستبدالها بما تراه
المعلمة الأنسب لها وللطالبة

البطاقات الخاصة بالإدراك البصري



مظلة للوقاية من المطر والحماية من أشعة الشمس



فرشاة أسنان تستخدم لتنظيف الأسنان

البطاقات الخاصة باختبارات الذاكرة البصرية

