

الامتحان الفصلي الأول لمقرر 101 فيز - الفصل الدراسي الأول 1435/1434هـ

اسم الطالب:	الرقم الجامعي:
-------------	----------------

A

المدة الزمنية للامتحان ساعة ونصف

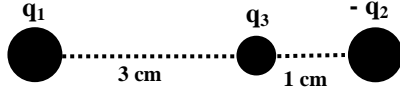
اختر الإجابة الصحيحة واكتب الحرف الدال عليها في الجدول في الصفحة الأخيرة

1- حسب قانون كولوم للعلاقة بين الشحنات فإن القوة الكهربائية تتناسب مع مربع المسافة تناسباً:

(أ) أسياً (ب) طردياً (ج) عكسياً (د) لا علاقة بينهما

2- في الشكل المجاور، القوة الكهربائية الناتجة من الشحنتين  $q_1 = +1.28 \mu\text{C}$  و  $q_2 = -1.28 \mu\text{C}$  والمؤثرة على

الشحنة  $q_3 = +0.64 \mu\text{C}$  تساوي (بوحدة N):



(أ) 82 (ب) 99

(ج) 35 (د) 47

3- المجال الكهربائي:

(أ) له مقدار فقط (ب) له اتجاه فقط (ج) له مقدار واتجاه (د) دائماً ثابت

4- نقطتان شحنتاهما  $+9 \text{ nC}$  و  $-9 \text{ nC}$ ، الجهد الكهربائي عند نقطة تبعد عن كل منهما  $9 \text{ cm}$  يساوي (Volt):

(أ) 4 (ب) 0 (ج) 5 (د) 6

5- السعة الكهربائية لموصل مشحون تعطى بالعلاقة:

(أ)  $C = \frac{r}{4\pi\epsilon_0}$  (ب)  $C = \frac{4\pi\epsilon_0}{r}$  (ج)  $C = \frac{\epsilon_0 r}{4\pi}$  (د)  $C = 4\pi\epsilon_0 r$

6- مكثف متوازي اللوحين، المسافة بين لوحيه  $2 \text{ mm}$  وسعته  $2 \text{ pF}$ ، مساحة كل من لوحيه تساوي (بوحدة  $\text{mm}^2$ ):

(أ) 2 (ب) 7.4 (ج) 36 (د) 450

7- أربع مكثفات متصلة على التوالي قيمة كل واحد منها  $0.4 \mu\text{F}$ ، السعة المكافئة (الكلية) لهذه المجموعة تساوي (بوحدة  $\mu\text{F}$ ):

(أ) 0.1 (ب) 0.2 (ج) 0.3 (د) 0.4

8- العلاقة بين طاقة مكثف مشحون شحنته  $Q$  وسعته  $C$  هي:

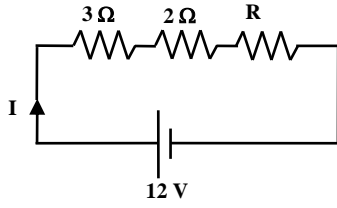
(أ)  $U = \frac{1}{2} Q^2 C$  (ب)  $U = \frac{1}{2} \frac{Q^2}{C}$  (ج)  $U = \frac{1}{2} \frac{C}{Q^2}$  (د)  $U = \frac{1}{2} QC$

9- يقاس التيار الكهربائي في النظام العالمي S.I. بوحدة الأمبير وهو يساوي:

(أ)  $\Omega \cdot \text{m}$  (ب)  $\text{electrons/m}^3$  (ج)  $\text{Coulomb/sec}$  (د)  $\text{Volt/m}^2$

A

10- إذا كانت المقاومة المكافئة للمقاومات في الدائرة الكهربائية المجاورة تساوي  $6 \Omega$  فإن قيمة المقاومة R تساوي (بوحدة  $\Omega$ ):



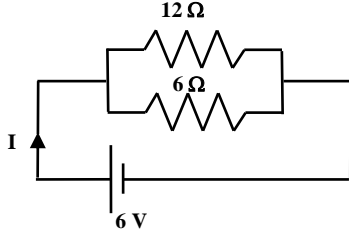
(د) 36

(ج) 6

(ب) 5

(أ) 1

11- في الدائرة الكهربائية المجاورة، فرق الجهد بين طرفي المقاومة العليا (ذات القيمة  $12 \Omega$ ) يساوي (Volt):



(د) 4

(ج) 3

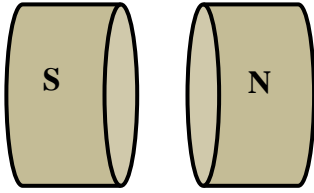
(ب) 6

(أ) 2

12- النسبة بين الطاقة الكهربائية إلى الزمن هي:

(أ) المقاومة الداخلية (ب) الطاقة الحرارية (ج) المقاومة الكهربائية (د) القدرة الكهربائية

13- كثافة الفيض (التدفق) المغناطيسي بين قطبي المغناطيس في الشكل المجاور تساوي (بوحدة Wb):

(ب)  $B.S.\cos(90)$ (أ)  $B.S.\cos(0)$ (د)  $B.S.\cos(30)$ (ج)  $B.S.\cos(45)$ 

14- موصل مستقيم طوله 5 m ويمر فيه تيارا كهربيا قدره 10 A ، ووضع متعامدا مع مجال مغناطيسي منتظم حثه 2 T ، القوة

المغناطيسية التي ستؤثر عليه تساوي (بوحدة N):

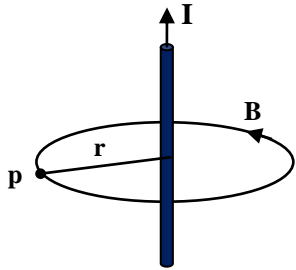
(د) 100

(ج) صفر

(ب) 4

(أ) 50

15- الحث المغناطيسي B عند النقطة P والتي تبعد مسافة r عن الموصل في الشكل المجاور يعطى بالعلاقة:

(د)  $B = \mu_o \frac{I}{r}$ (ج)  $B = \frac{\mu_o I}{2r}$ (ب)  $B = \frac{\mu_o I}{2\pi r}$ (أ)  $B = 2\pi\mu_o \frac{I}{r}$ 

16- إذا تحرك إلكترون في مجال مغناطيسي حثه 8 T ومتأثرا بقوة مغناطيسية قدرها  $3.2 \times 10^{-12} \text{ N}$  فإن سرعته تساوي (بوحدة m/s):

(د)  $3.2 \times 10^7$ (ج)  $2.5 \times 10^6$ (ب)  $3 \times 10^8$ (أ)  $4 \times 10^7$ 

ثوابت:

$k_e = 9 \times 10^9 \text{ N.m}^2/\text{C}^2$  ,  $e = 1.6 \times 10^{-19} \text{ C}$  ,  $\epsilon_o = 8.85 \times 10^{-12} \text{ C}^2/\text{N.m}^2$  ,  $\mu_o = 4\pi \times 10^{-7} \text{ Wb/A.m}$

A

كلية العلوم  
قسم الفيزياء والفلك



الامتحان الفصلي الأول لمقرر 101 فيز - الفصل الدراسي الأول 1435/1434 هـ

اسم الطالب:	الرقم الجامعي:
-------------	----------------

سجل الإجابة الصحيحة وذلك بوضع الحرف الدال عليها في الجدول التالي

8	7	6	5	4	3	2	1	السؤال
								الإجابة
16	15	14	13	12	11	10	9	السؤال
								الإجابة

تمنياتنا لك بالتوفيق والنجاح